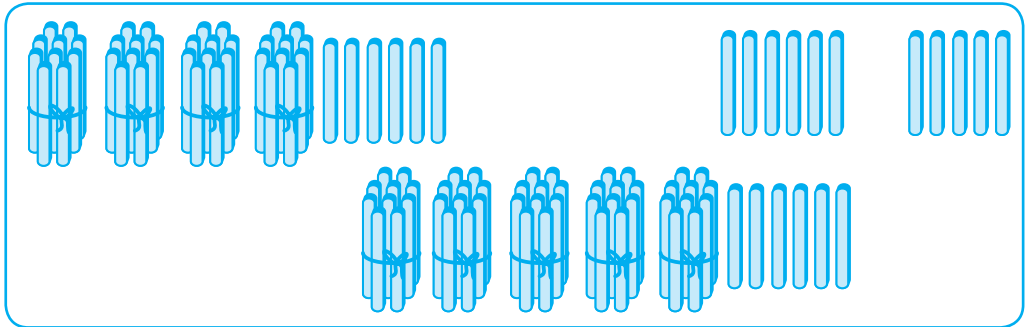


ПОВТОРЕННЯ ВИВЧЕНОГО В 1 КЛАСІ (IV чверть)

Додаток до посібника
«Математика. 2 клас. Робочий зошит. У 2-х ч.
До підручника Григорія Лишенка»



- 1 За допомогою паличок утворили число 56. Обведи відповідний малюнок.



- 2 Познач цифрами правильний порядок лічби десятками до ста.

двадцять
 сімдесят
 сто

десять
 тридцять
 дев'яносто

сорок
 вісімдесят

п'ятдесят
 шістдесят

3 $7 + 5 = \square\square$

 $5 + 7 = \square\square$

$8 + 6 = \square\square$

 $6 + 8 = \square\square$

$7 + 4 = \square\square$

 $4 + 7 = \square\square$

- 4 Розв'яжи задачу.

У танцювальному ансамблі було 10 дівчаток. Згодом записалося ще 6. Скільки дівчаток стало в ансамблі?

Відповідь:

1 Запиши пропущені числа.

36, 37, , , , , , 43, 44.

50, , , , 54, , , 57, 58.

2 Підкресли рівності синім кольором, а нерівності — зеленим.

$5 + 7 \neq 10 + 3$

$19 + 1 = 10 + 10$

$8 + 7 = 10 + 5$

$18 - 8 < 13 - 1$

$9 + 8 > 6 + 10$

$17 - 1 \neq 9 + 9$

3 Упиши відповідні числа.

$20 \text{ см} = \text{ дм}$

$1 \text{ дм } 5 \text{ см} = \text{ см}$

$5 \text{ дм} = \text{ см}$

$19 \text{ см} = \text{ дм } \text{ см}$

4 Розв'яжи задачу.

У конкурсі юних художників узяли участь 6 хлопчиків, а дівчаток — на 8 більше. Скільки дівчаток узяли участь у конкурсі?

Відповідь:

1 Запиши число, у якому:

3 дес.

5 дес. 5 од.

6 дес. 1 од.

7 дес. 5 од.

4 од.

10 дес.

2 Порівняй іменовані числа ($>$, $<$, $=$).

1 дм 10 см

60 см 6 дм

1 м 9 дм

4 дм 50 см

8 дм 70 см

1 м 100 см

3 Упиши відповідні числа.

Доданок	2	10	8		6		16	5
Доданок	7	8		5	3	7		3
Сума			10	10		17	17	

4 Розв'яжи задачу.

На спортивному святі у змаганнях із бігу взяли участь 6 школярів, із стрибків у висоту — 4, а із стрибків у довжину — 5 школярів. Скільки всього школярів змагалися на спортивному святі?

Відповідь:

1 Запиши «сусідів» чисел.

39

54

61

88

77

99

2 Заповни порожні клітинки.

$$16 + 1 - 10 > \square$$

$$9 + 5 < 9 + \square$$

$$3 + 9 - 2 = \square \square$$

$$7 + 5 = \square + 9$$

$$6 + 10 - \square < 10$$

$$\square \square - 4 = 20$$

3 Розв'яжи задачу.

Бабуся приготувала 5 млинців з м'ясом, а із сиром — на 4 більше. Скільки млинців із сиром приготувала бабуся?

Відповідь:

4 Збільш відрізок на 3 см. Знайди довжину отриманого відрізка.



1 Порівняй ($>$, $<$, $=$).

$24 \square 42$

$6 \square 6 \text{ дес.}$

$71 \square 17$

$52 \square 49$

$70 \square 7 \text{ дес.}$


$50 \square 80$

$80 \square 80$

$93 \square 9 \text{ дес. } 3 \text{ од.}$

$64 \square 72$

2 У кожній коробці — 10 цукерок. Скільки цукерок у 3 коробках? $\square\square$ у 5 коробках? $\square\square$ у 9? $\square\square$



$39 + 1 = \square\square$

$40 - 1 = \square\square$

$27 + 1 = \square\square$

$88 + 1 + 1 = \square\square$

$60 - 1 = \square\square$

$53 + 1 = \square\square$

$70 - 1 = \square\square$

$100 - 1 = \square\square$

$98 + 1 = \square\square$

3 З'єднай кожну задачу з її розв'язанням.

Запиши відповіді.

Наталочка купила ручку за 8 грн, а Тетянка — дорожчу на 5 грн. Скільки гривень заплатила за ручку Тетянка?

$8 - 5 = \square \text{ грн}$

Відповідь:

--	--	--	--	--	--	--	--	--	--

Наталочка купила ручку за 8 грн, а Тетянка — дешевшу на 5 грн. Скільки гривень заплатила за ручку Тетянка?

$8 + 5 = \square\square \text{ грн}$

Відповідь:

--	--	--	--	--	--	--	--	--	--

- 1 Запиши, скільки десятків і одиниць у кожному числі.

$83 = \square \text{ дес. } \square \text{ од.}$

$40 = \square \text{ дес.}$

$77 = \square \text{ дес. } \square \text{ од.}$

$51 = \square \text{ дес. } \square \text{ од.}$

- 2 Запиши числа, що на 1 десяток менші від поданих.

29, 47, 85, 37, 88, 76, 63, 91, 52.

- 3 Визнач закономірність і продовж кожний рядок трьома числами.

41, 43, 45, 47,


10, 20, 30, 40,

87, 86, 85, 84,


- 4 Надійка відрізала дві паперові смужки. Довжина першої дорівнює довжині відрізка AB . Друга на 5 см коротша. Накресли відрізок MK , довжина якого дорівнює довжині другої смужки.

A •—————• B

- 1 Зайчик записував одноцифрові числа, а білочка — двоцифрові. Знайди й виправ помилки в їхніх записах.



7, 4, 16, 8,
1, 33, 6, 9.



74, 29, 10, 3,
51, 69, 11, 5.

- 2 Запиши найменше двоцифрове число . Запиши найбільше двоцифрове число .

- 3 Познач імена дітей, які правильно виконали обчислення. Виправ помилки там, де це потрібно.

Олеся

$$7 \xrightarrow{+2} \boxed{} \xrightarrow{+1} \boxed{} \xrightarrow{-10} \boxed{} \xrightarrow{+6} \boxed{} \xrightarrow{-4} \boxed{} \xrightarrow{-2} \boxed{0}$$

Петрик

$$8 \xrightarrow{+4} \boxed{} \xrightarrow{+1} \boxed{} \xrightarrow{-3} \boxed{} \xrightarrow{-4} \boxed{} \xrightarrow{+2} \boxed{} \xrightarrow{-5} \boxed{10}$$

Руслана

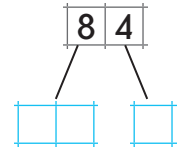
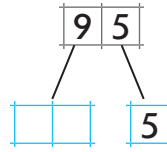
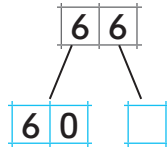
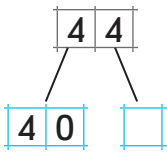
$$5 \xrightarrow{+7} \boxed{} \xrightarrow{+8} \boxed{} \xrightarrow{-1} \boxed{} \xrightarrow{-9} \boxed{} \xrightarrow{-7} \boxed{} \xrightarrow{+8} \boxed{11}$$

- 4 Розв'яжи задачу.

У класі стояло 9 стільців. Цього було мало. Принесли ще стільці, і всі 19 учнів змогли сісти. Скільки стільців принесли для учнів?

Відповідь:

1 Заповни порожні клітинки.



2 Виконай дії за зразком.

$$\begin{array}{c} 63 + 5 = 68 \\ | \quad \swarrow \quad \searrow \\ 6 \quad 8 \end{array}$$

$$\begin{array}{c} 34 + 3 = \boxed{} \\ | \quad \swarrow \quad \searrow \\ \boxed{} \boxed{} \end{array}$$

$$\begin{array}{c} 52 + 7 = \boxed{} \\ \boxed{} \boxed{} \end{array}$$

$$\begin{array}{c} 23 + 54 = 77 \\ \swarrow \quad \searrow \quad \swarrow \quad \searrow \\ 7 \quad 7 \end{array}$$

$$\begin{array}{c} 45 + 23 = \boxed{} \\ \swarrow \quad \searrow \quad \swarrow \quad \searrow \\ \boxed{} \boxed{} \end{array}$$

$$\begin{array}{c} 67 + 22 = \boxed{} \\ \boxed{} \quad \boxed{} \end{array}$$

3 Порівняй іменовані числа ($>$, $<$, $=$).

1 доба $\boxed{}$ 20 хв

1 грн $\boxed{}$ 50 коп.

10 см $\boxed{}$ 1 дм

5 дм $\boxed{}$ 1 м

60 хв $\boxed{}$ 59 хв

1 м $\boxed{}$ 100 см

4 Розв'яжи задачу.

На двох стоянках — 60 автомобілів. Скільки автомобілів на першій стоянці, якщо відомо, що на другій стоянці — 40 автомобілів?

Відповідь:

1 Згрупуй вирази, запиши їх в окремі стовпчики. Обчисли.

$50 + 20$

$72 + 23$

$30 + 30$

$64 + 31$

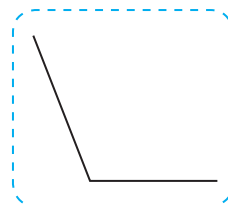
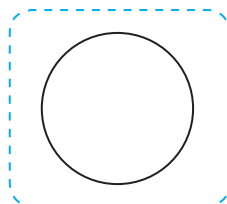
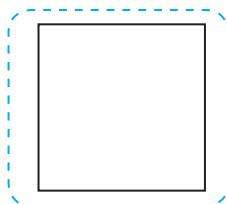
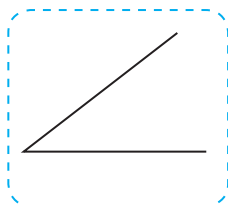
$33 + 33$

$50 + 40$

$40 + 30$

$34 + 23$

2 Наведи рамочки із зображенням кутів. Познач вершини кутів зеленим кольором. Сторони кутів наведи синім.



3 Розв'яжи задачу.

Збираючи нектар, бджілка Майя облетіла 20 квіток. Після цього їй залишилося облетіти стільки ж квіток. Скільки всього квіток мала облетіти бджілка Майя?

Відповідь:

1 Склади рівності за зразком.

$$\begin{array}{r} 50 + 3 = 53 \\ \hline \end{array}$$

$$53 - 3 = 50$$

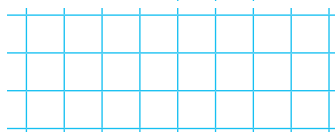
$$53 - 50 = 3$$

$$\begin{array}{r} 76 - 6 = 70 \\ \hline \end{array}$$


$$76 - 70 = 6$$

$$70 + 6 = 76$$

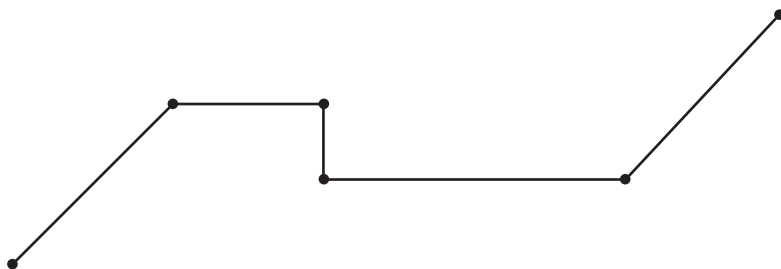
$$80 + 5 = \boxed{\quad\quad}$$



$$67 - 7 = \boxed{\quad\quad}$$



2 Обчисли суму довжин ланок ламаної.



3 Розв'яжи задачу.

Марійка вписала у клітинки кросворда 12 слів, а Оленка — на 7 слів більше. Скільки слів вписала Оленка?

Відповідь: _____

1 $8 + 2 = \square\square$

$8 + 3 = \square\square$

$2 + \square$

$9 + 1 = \square\square$

$9 + 4 = \square\square$

$1 + \square$

$7 + 3 = \square\square$

$7 + 5 = \square\square$

$\square + \square$

$8 + 4 = \square\square$

$\square + \square$

$9 + 6 = \square\square$

$\square + \square$

$7 + 7 = \square\square$

$\square + \square$

2 $13 = \square$

$9 = \square\square$

$16 - 10 = \square$

$2 + 10 = \square\square$

$18 = \square$

$5 = \square\square$

3 Розв'яжи задачу.

Тривалість життя кроля 5 років, а ката — 10. На скільки років менше живе кріль, ніж кіт?

Відповідь:


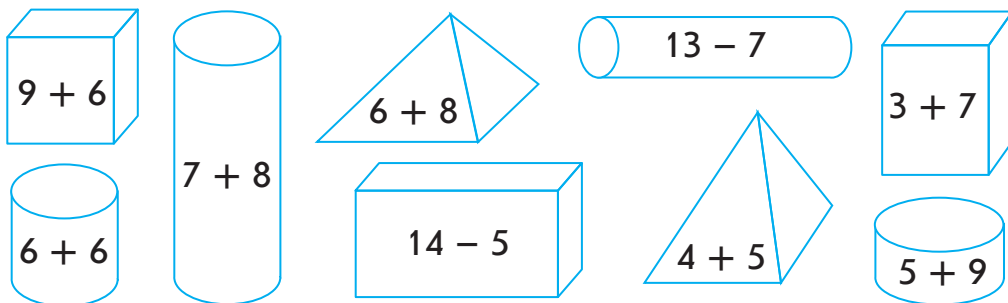
4* Петрик, Тарас і Сергійко живуть у багатоповерховому будинку. Визнач, хто живе нижче за всіх, якщо Тарас живе вище, ніж Петрик, а Петрик — вище, ніж Сергійко.

Тарас \square , Петрик \square , Сергійко \square .

1 Знайди й запиши різниці.


Зменшуване	46	74	69	87	95	58
Від'ємник	25	33	43	54	31	26
Різниця						

2 Обчисли значення виразів, що розміщені в циліндрах.



3 Розв'яжи задачу.

Майстрині потрібно вишити на рушнику 17 квіточок. Їй залишилося вишити 8 квіточок. Скільки квіточок вишила майстриня?



4 Заповни порожні клітинки.

$$50 + 10 + \square\square = 100 - 20 \quad \square\square - 30 < \square\square + 20$$

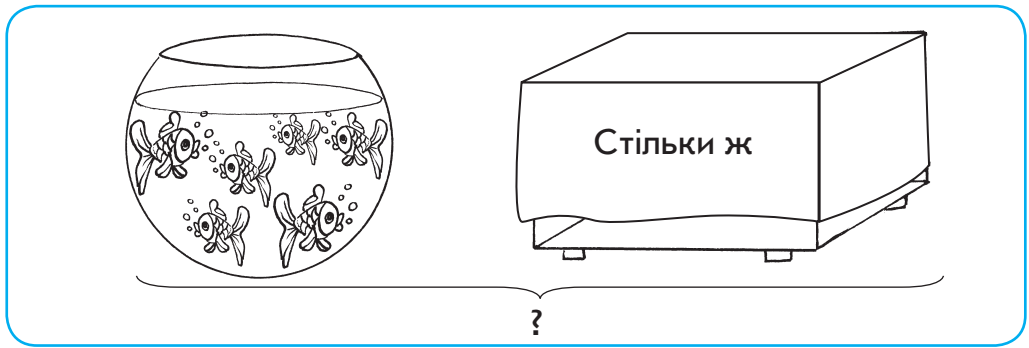
$$60 - 40 + \square\square > 40 \quad 90 - \square\square = 10 + 10 + \square\square$$

1 Обчисли.

+7	9	3	10	8	4	7	5	2	6	1

-7	10	13	11	15	12	14	16	17

2 Склади і розв'яжи задачу.



Відповідь:

3 Упиши відповідні знаки.

$7 \square 7 \square 4 = 10$

$11 \square 7 \square 6 = 10$

$7 \square 3 \square 5 = 15$

$12 - \square + \square = 15$

$8 \square 7 \square 5 = 20$

$15 - 7 + \square = 10$

